

令和4年度

藤蔭高等学校 前期入学試験問題

社 会 (50分)

試験開始の合図があるまで、この「問題」を開かず、下記の注意事項をよく読んでください。

注 意 事 項

1. 試験中は、わき見をしたり、勝手に話をしてはいけません。道具の貸し借りもしてはいけません。不正行為のないように注意してください。
2. 試験中の途中退室はできません。
3. 試験中、気分が悪くなった人は、黙って手をあげてください。
4. 問題用紙と解答用紙は別々の用紙です。答えは解答用紙に書いてください。解答用紙には受験番号をはっきり書いてください。
5. 問題に脱落や印刷の不鮮明な部分などがあつたら、黙って手をあげてください。
6. 試験が終わったら、解答用紙は裏にして机の上に置いてください。問題用紙は持ち帰ってください。

受 験 番 号	名 前

【1】 次のⅠ・Ⅱの文を読んで、各問いに答えなさい。

Ⅰ 昨年は、1年遅れで「東京オリンピック・パラリンピック 2020」が開催されました。オリンピックシンボル（五輪マーク）の5つの輪は、**a**五大大陸を表すとともに、輪の色である「青」・「黄」・「黒」・「緑」・「赤」の色は、背景の色である「白」と合わせると、世界のほとんどの国の国旗を描くことができるということで選ばれているそうです。ちなみに、昨年のオリンピックでメダル獲得数が6つの州（地域）ごとで最も多かった国の国旗を見ていくと、アジア州の**b**中国は赤と黄の2色、アフリカ州の**c**ケニアは黒、緑、赤、白の4色、ヨーロッパ州の**d**イギリス、北アメリカ州の**e**アメリカ、オセアニア州の**f**オーストラリアは青、赤、白の3色、南アメリカ州の**g**ブラジルは青、黄、緑、白の4色が使用されています。

問1 わが国では、地球を六大大陸で表すことが一般的である。六大大陸のうち、下線部**a**の五大大陸に属さない大陸を答えなさい。

問2 下線部**b**について、①・②の問いに答えなさい。

① この国の工業について述べた文のうち、適切なものを、次のア～エから1つ選び、記号で答えなさい。

ア. 豊富な地下資源に恵まれ、20世紀に世界最大の工業国となり、南部や西部の新しい工業地域で先端技術産業が発達した。

イ. 工業がさかんな沿岸部と農業が中心の内陸部との経済格差が大きく、近年では急速な工業発展によって大気汚染などの公害が問題となっている。

ウ. 地下資源には恵まれていないが、原料を輸入し、製品を輸出する加工貿易によって第二次世界大戦後、急速な経済成長をはたした。

エ. 複数の国を流れる河川の水運と豊富な地下資源を利用し、19世紀後半から急速に工業を発展させた。


② この国の人口の90%以上を占める民族名を漢字で答えなさい

問3 下線部**c**について述べた次の文の空欄(①)・(②)に適する語句を、カタカナで答えなさい。

この国は赤道直下にあるが、高地であることをいかにして(①)農業による茶の栽培がさかんで、現在も重要な輸出品である。アフリカの多くの国は、このような特定の農産物や鉱産資源の輸出にたよっている。このような経済を(②)経済という。

問4 下線部**d**について、①・②の問いに答えなさい。

① この国が2020年に離脱したEUの旗を、次のア～エから1つ選び、記号で答えなさい。



② この国と関係ないものを、次のア～エから1つ選び、記号で答えなさい。

ア. 北海油田 イ. ユーロトンネル ウ. ユーロポート エ. グリニッジ天文台

問5 下線部**e**について、①・②の問いに答えなさい。

① この国の特定農産物の一大生産地域を表す語句として 適切でないもの を、次のア～エから1つ選び、記号で答えなさい。

ア. ウィートベルト イ. コットンベルト ウ. コーンベルト エ. サンベルト

② この国が1994年にカナダやメキシコとともに発効し、経済的自由化をめざして結成したものを、次のア～エから1つ選び、記号で答えなさい。

ア. NAFTA イ. NIES ウ. BRICS エ. APEC

問6 下線部 f の現在の状況を述べた文のうち、適切でないものを次のア～エから1つ選び、記号で答えなさい。

- ア. 同化政策によって、先住民族のアボリジニの差別を防止する政策をとっている。
- イ. 近年の貿易相手先として、日本や中国などアジアの国々が上位を占めている。
- ウ. 英語以外の言葉を使うヨーロッパやアジアの移民を受け入れている。
- エ. さまざまな文化が共存できる社会の実現をめざしている。

問7 下線部 g について述べた文 X, Y の正誤の組み合わせとして正しいものを、次のア～エから1つ選び、記号で答えなさい。

X この国の赤道付近に広がる熱帯雨林の森林面積は、拡大傾向にある。

Y 日本国内に、この国から働きに来た日系人が多く住む市や町がみられる。

- ア. X-正 Y-正 イ. X-正 Y-誤 ウ. X-誤 Y-正 エ. X-誤 Y-誤

II 「東京オリンピック・パラリンピック 2020」は、h 東京都の都心付近や湾岸エリアを中心に競技が行われましたが、競技によっては i 近隣の県や、遠くは福島県や宮城県などの j 東北や、k 北海道でも行われました。次回の夏季オリンピック・パラリンピックは、l フランスのパリで 2024 年開催される予定です。

問8 下線部 h について、次の文の空欄 (①)・(②) にあてはまる語句の組み合わせとして正しいものを、次のア～カから1つ選び、記号で答えなさい。

東京が大都市へと発展するなかで、新宿、渋谷、池袋などのターミナルに (①) が発達し、都心にあったオフィスや商業などの機能の一部が (①) に移転するようになった。なかでも、(②) のある新宿では、新たなオフィス街としての整備が進められている。

- ア. ① 首都圏 ② 東京都庁 イ. ① 首都圏 ② 東京タワー ウ. ① 首都圏 ② 東京スカイツリー
- エ. ① 副都心 ② 東京都庁 オ. ① 副都心 ② 東京タワー カ. ① 副都心 ② 東京スカイツリー

問9 下線部 i について、関東地方の競技会場があった県のうち、東京都に隣接していない県を、次のア～エから1つ選び、記号で答えなさい。

- ア. 茨城県 イ. 神奈川県 ウ. 埼玉県 エ. 千葉県

問10 下線部 j について、次の①は南部鉄器、②は会津塗という伝統的工芸品である。それぞれどの県のものか、《地図》中ア～カから1つずつ選び、記号で答えなさい。

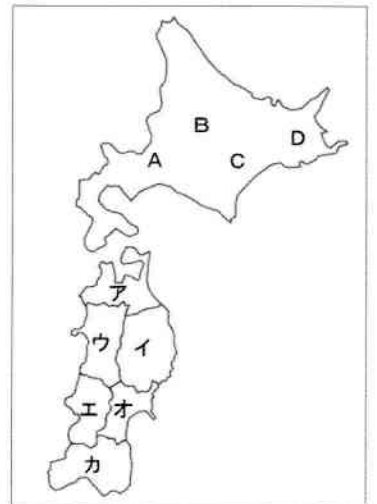
①



②



《地図》



問11 下線部 k について、①・②の問いに答えなさい。

① 《地図》中の A～D の地形名と、そこでもっともさかんに行われている農業の組み合わせとして正しいものを、次のア～オから1つ選び、記号で答えなさい。

- ア. A : 上川盆地－稲作 B : 石狩平野－稲作 C : 根釧台地－酪農 D : 十勝平野－畑作
- イ. A : 十勝平野－畑作 B : 上川盆地－畑作 C : 石狩平野－畑作 D : 根釧台地－酪農
- ウ. A : 石狩平野－稲作 B : 上川盆地－稲作 C : 根釧台地－酪農 D : 十勝平野－畑作
- エ. A : 十勝平野－畑作 B : 上川盆地－畑作 C : 石狩平野－稲作 D : 根釧台地－酪農
- オ. A : 石狩平野－稲作 B : 上川盆地－稲作 C : 十勝平野－畑作 D : 根釧台地－酪農

② 明治時代、蝦夷地を北海道と改め、開拓使という役所を置き、欧米の技術を取り入れた開拓事業を進めた。開拓の中心となった、各地から移住してきた農業兼業の兵士を何というか、漢字で答えなさい。

問12 下線部 l について、標準時子午線は東経 15 度の中央ヨーロッパ時間帯である。日本時間と比べ、何時間進んでいるか、または、遅れているか、次の文の空欄 (①)・(②) にあてはまる数字と語句を答えなさい。

フランスの時間は日本の時間と比べて、(①) 時間、(②) いる。

【2】右の年表は、律令国家の形成について作成したものである。各問いに答えなさい。

問1 【年表】中のAについて、聖徳太子が建てた寺院を何というか、漢字で答えなさい。

問2 【年表】中のBについて、①～③の問いに答えなさい。

① 遣唐使の派遣により、Bの後に律令制度が取り入れられた。701年に完成した律令を何というか、漢字で答えなさい。

② 律令国家の説明として適切なものを、次のア～エから1つ選び、記号で答えなさい。

- ア. 天皇を中心とする中央集権的な国家
- イ. 農民を中心とする地方中心の国家
- ウ. 貴族や豪族を中心とする富裕層国家
- エ. 地方の独立した都市からなる都市国家

③ 次の文は、Bの後に始められた班田収授法による班田について述べた文である。空欄 (a)・(b) にあてはまる語句や数字を答え、(c) にあてはまるものを、下のア～オから1つ選び、記号で答えなさい。

「(a) 年ごとにつくられる戸籍に登録された6歳以上のすべての人々に (b) が与えられた。それは、良民男子には2段、女子にはその (c) が与えられた。」

- ア. 2分の1 イ. 3分の1 ウ. 3分の2 エ. 4分の1 オ. 4分の3

問3 【年表】中のCについて、天武天皇は、あとつぎをめぐる戦いに勝利して即位した。この戦いを何というか、答えなさい。

問4 【年表】中のDについて、①～③の問いに答えなさい。

- ① この都を何というか、答えなさい。
- ② この都がつくられたころにまとめられた、地方の国ごとに、自然や伝説などを記した書物を何というか、答えなさい。
- ③ この都の説明として、適当でないものを、次のア～エから1つ選び、記号で答えなさい。
 - ア. およそ10万人が生活しており、そのうち約1万人は役所に勤めていた。
 - イ. 律令国家の新しい都として、奈良盆地の北部につくられた。
 - ウ. この都は、唐の都長安（西安）にならってつくられた。
 - エ. 唐にならって、寛永通宝などの貨幣が発行された。

問5 大化の改新の時期を、【年表】中のア～エから1つ選び、記号で答えなさい。

西 暦	おもな出来事
593	聖徳太子が推古天皇の摂政となる……A ア
630	第一回遣唐使が送られる……B イ
673	天武天皇が即位する……C ウ
710	新しい都がつくられる……D エ
752	東大寺の大仏が完成する……E

【3】次の【年表】と《資料1・2》を見て、各問いに答えなさい。

【年表】

西 暦	おもな出来事
1765	蒸気機関が改良される………A
1776	a－独立宣言が発表される
1789	フランス革命が始まる………B ア
1804	b－(X)が皇帝となる イ
1825	c－世界初の鉄道が開通する ウ
1840	アヘン戦争がおこる………C エ
1861	d－南北戦争がおこる………D

《資料1》

第1条 人は生まれながらに、自由で平等な権利を持つ。社会的な区別は、ただ公共の利益に関係のある場合にしか、設けられてはならない。

《資料2》

第1条 国王の権限によって、議会の同意なく、法律を停止することができることを主張することは、違法である。

- 問1 【年表】中のAについて、イギリスでは、科学技術が向上し、人々の生活が大きく変わった。このように、科学技術の向上による産業と社会の仕組みの変化を何というか、答えなさい。
- 問2 【年表】中のBのとき、《資料1》が発表された。これを何というか、答えなさい。
- 問3 【年表】中のCについて、この戦争がおこったころ、清からイギリスへ輸出されていたものを、次のア～エから1つ選び、記号で答えなさい。
ア. 茶 イ. 砂糖 ウ. 香辛料 エ. 綿織物
- 問4 【年表】中のDについて、この戦争のさなかに奴隷解放宣言を発表したアメリカ大統領は誰か、カタカナ4文字で答えなさい。
- 問5 《資料2》が定められた国でおこったできごとを、年表中のa～dから1つ選び、記号で答えなさい。
- 問6 【年表】中の空欄(X)にあてはまる人物は誰か、答えなさい。
- 問7 インド大反乱がおこった時期を、年表中のア～エから1つ選び、記号で答えなさい。

【4】次の文Ⅰ～Ⅲを読んで、各問いに答えなさい。

- Ⅰ. 1889年、a 大日本帝国憲法が公布された。この憲法は、b 君主権の強いプロイセン憲法を模範としてつくられ、君主である天皇が制定し、国民にあたえるという形式がとられた。
- Ⅱ. 1945年8月、日本は(X)を受諾し、第二次世界大戦が終わった。そして、日本は軍国主義を捨て、平和で民主的な政府をつくることになった。政府はc 連合国軍最高司令官総司令部の作成した原案をもとに、憲法改正草案を作成した。改正案は、帝国議会で審議され、一部修正のうえ可決された。d 日本国憲法は、e 1946年に公布され、翌1947年に施行された。
- Ⅲ. 男女平等の社会づくりをめざし、1979年にf 国連で女子差別撤廃条約が採択されたことを受けて、日本でも、1985年に男女雇用機会均等法が制定された。さらに、1999年に男女共同(Y)社会基本法が制定された。

- 問1 文中Ⅱの空欄(X)にあてはまる語句を答えなさい。
- 問2 文中Ⅲの空欄(Y)にあてはまる語句を、漢字で答えなさい。
- 問3 下線部aについて、国民の権利はあるものによって制限することができるとされていた。それは何か、次のア～エから1つ選び、記号で答えなさい。
ア. 国民投票 イ. 裁判 ウ. 法律 エ. 国民審査
- 問4 下線部bについて、ヨーロッパに留学し、憲法草案作成の中心となった人物を、次のア～エから1つ選び、記号で答えなさい。
ア. 岩倉具視 イ. 黒田清隆 ウ. 伊藤博文 エ. 大隈重信
- 問5 下線部cについて、略称をアルファベット3文字で答えなさい。

問6 下線部dについて、①～③の問いに答えなさい。

① 憲法改正の発議をするのはどの機関か、次のア～エから1つ選び、記号で答えなさい。

ア. 国会 イ. 公正取引委員会 ウ. 内閣 エ. 両院協議会

② 日本国憲法において平和主義の原則は第何条に規定されているか、答えなさい。

③ 日本国憲法の第7条で、天皇の「国事に関する行為」について定めている。それにあたるものを、次のア～エから1つ選び、記号で答えなさい。

ア. 衆議院の解散 イ. 最高裁判所長官の指名 ウ. 政令の制定 エ. 条約の締結

問7 下線部eについて、公布された日は現在、国民の休日となっている。何というか、次のア～エから1つ選び、記号で答えなさい。

ア. 憲法記念日 イ. 文化の日 ウ. 山の日 エ. 建国記念の日

問8 下線部fについて、現在、安全保障理事会の常任理事国にあてはまらない国を、次のア～カから1つ選び、記号で答えなさい。

ア. イギリス イ. 中国 ウ. アメリカ エ. ロシア オ. 日本 カ. フランス

【5】 次の各問いに答えなさい。

《資料》 家族にかかわりのある法令と条項

日本国憲法
第13条【個人の尊厳】
第14条【法の下での平等】
第24条【家族生活における個人の尊厳と両性の平等】

(X)
第725条【親族の範囲】
第877条【扶養義務者】
第900条【法定相続分】

問1 《資料》について、①～③の問いに答えなさい。

① 《資料》に示された日本国憲法の3つの条項は、日本国憲法の三大原則のうち、どの原則と関係があるか、答えなさい。

② 空欄(X)にあてはまる法律名を答えなさい。

③ 空欄(X)について述べた文として適切なものを、次のア～エから1つ選び、記号で答えなさい。

ア. 空欄(X)は、成人でも結婚には父母の同意が必要であるとしている。

イ. 空欄(X)は、家族が互いに扶養し合うことを義務づけている。

ウ. 空欄(X)は、子の中で相続権を持つものは長男だけであるとしている。

エ. 空欄(X)は、明治維新以後の家族制度のあり方を定めたものである。

問2 次の文を読んで、①・②の問いに答えなさい。

地方議会は、その地域の住民の直接選挙によって選出された任期4年の議員で構成される。地方議会のおもな仕事は、(Y)の制定・改廃、予算の決定などである。

① 文中の空欄(Y)にあてはまる語句を、漢字で答えなさい。

② 地方議会について述べた文として適切なものを、次のア～エから1つ選び、記号で答えなさい。

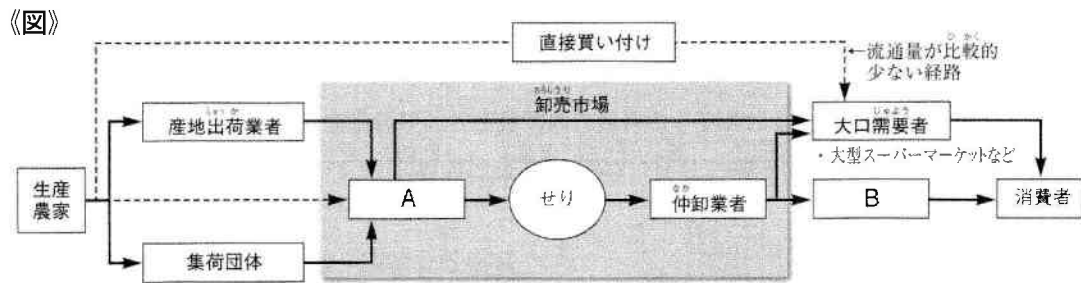
ア. 地方議会は、国会と同じように二院制であり、議案について慎重に審議し、いきすぎや誤りのないようにしている。

イ. 地方議会は、首長に対して不信任の議決を行うことができ、不信任の議決があった場合、首長は10日以内に議会を解散しない限り、その職を失う。

ウ. 地方議会は、地域の有権者の3分の1以上の署名があれば、選挙管理委員会の勧告に従って、解散することが義務づけられている。

エ. 地方議会は、首長が住民の直接選挙により選出されたあとの最初の議会において、首長を信任するかどうかを決めるための投票を行う。

問3 次の《図》は、野菜が消費者に届くまでを表したものである。空欄A・Bに入る語句の組み合わせとして正しいものを、下のア～エから1つ選び、記号で答えなさい。



- ア. A - 卸売業者 B - 運送業者 イ. A - 卸売業者 B - 小売業者
 ウ. A - 運送業者 B - 小売業者 エ. A - 運送業者 B - 運送業者

問4 消費者の安全と権利を守るために、さまざまな法律や制度がある。次のⅠ～Ⅲの文が示す法律や制度の名称の組み合わせとして正しいものを、下のア～カから1つ選び、記号で答えなさい。

- Ⅰ 商品を購入したのち一定期間であれば、返品をすることもできる。
 Ⅱ この法律によって、消費者からの苦情や相談を受け付ける消費者センターが全国各地に設けられた。
 Ⅲ 消費者に不利なことをわざと隠した場合などに契約を解除することができる。

- ア. Ⅰ - 消費者契約法 Ⅱ - クーリング・オフ制度 Ⅲ - PL法
 イ. Ⅰ - 消費者契約法 Ⅱ - 消費者基本法 Ⅲ - クーリング・オフ制度
 ウ. Ⅰ - PL法 Ⅱ - 消費者契約法 Ⅲ - クーリング・オフ制度
 エ. Ⅰ - PL法 Ⅱ - クーリング・オフ制度 Ⅲ - 消費者契約法
 オ. Ⅰ - クーリング・オフ制度 Ⅱ - 消費者基本法 Ⅲ - 消費者契約法
 カ. Ⅰ - クーリング・オフ制度 Ⅱ - 消費者契約法 Ⅲ - PL法

問5 次の文は、政治と国民とのかかわりについて調べた内容の一部である。空欄（ Y ）に共通してあてはまる語句を答えなさい。

ある日の新聞に右のような調査結果がのっていました。このような、政治や社会に対して国民がもっている意見を（ Y ）といいます。テレビや新聞社などは、私たち国民の意見を知るために（ Y ）調査を実施しています。

